

1 класс



Учитель начальных классов
Гончарова М.И.
МОУ Магнитная СОШ



Путешествие по стране «Математика»





Паровозик

из

Ромашково



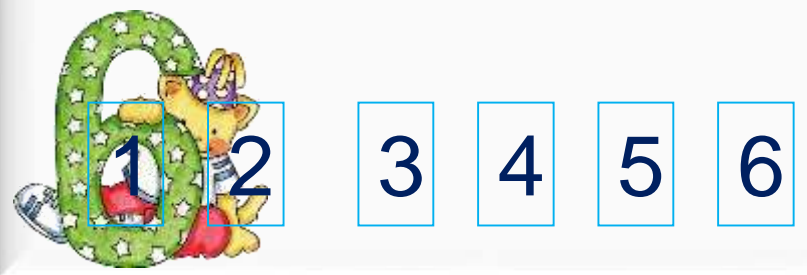
Счастливого пути!



Отправлена тарелка

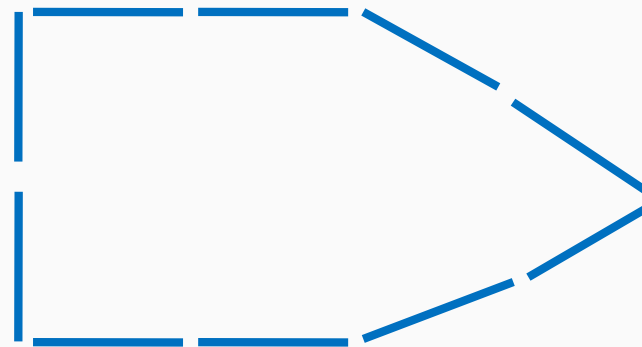
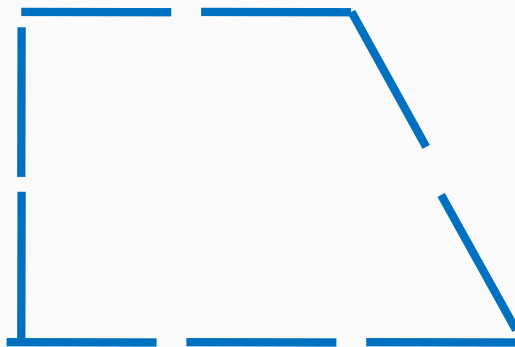

Урок 36. Числа 1-6

2. Какие числа можно записать в «окошках»?

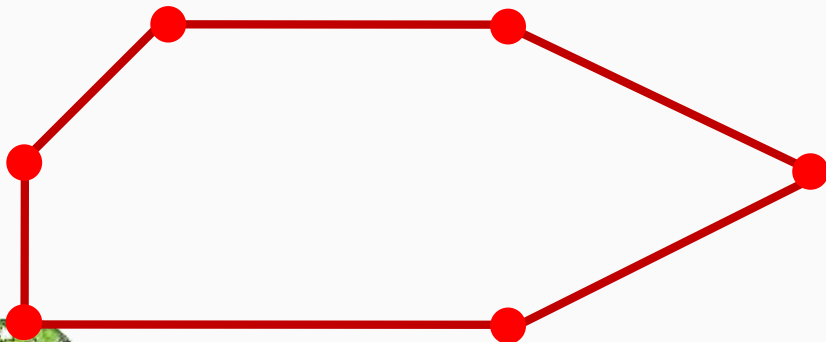


Урок 36. Числа 1-6

Сложите из палочек фигуры и назовите их.

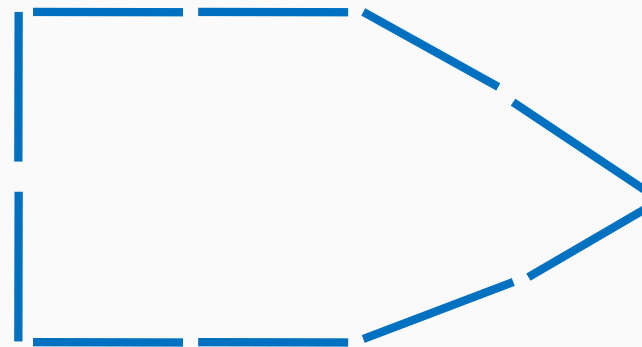
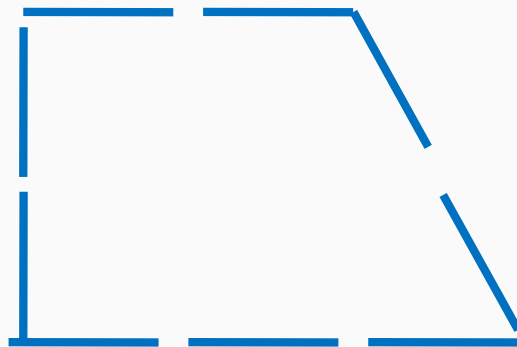



1. Что ты можешь сказать об этой фигуре?

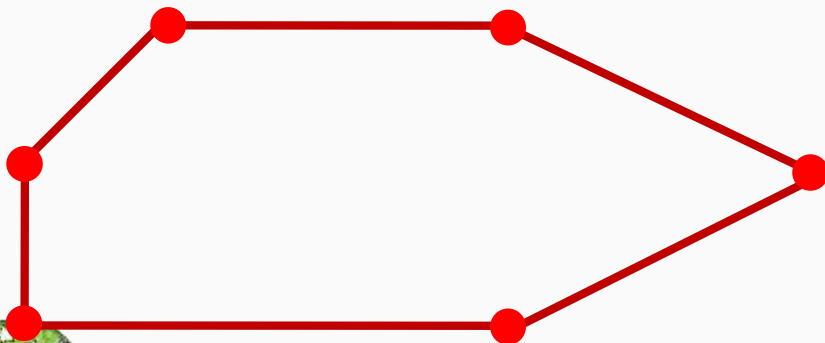


Урок 36. Числа 1-6

Сложите из палочек фигуры и назовите их.



1. Что ты можешь сказать о фигуре на рисунке?



! Это – шестиугольник.



? Как бы ты назвал эту фигуру?

Счастливого пути!




Отправлена тарелка



У С Т Н Ы Й


С Ч ё Т





6

**М
О
Л
О
Д
Ц
Ы**



ЗАДАЧА НА СМЕКАЛКУ

*На столе стояло 3 стакана с малиной
Костя съел один стакан малины .
Сколько стаканов осталось?*



Счастливого пути!



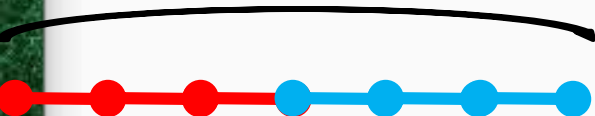
Отправься в путешествие



Урок 36. Числа 1-6

3. Назовите число всех единичных отрезков (целое) на каждом рисунке. Назовите число единичных отрезков в каждой части.

6



$$3 + 3 = 6$$

$$6 - 3 = 3$$

6



$$2 + 4 = 6$$

$$4 + 2 = 6$$

$$6 - 2 = 4$$

$$6 - 4 = 2$$

6

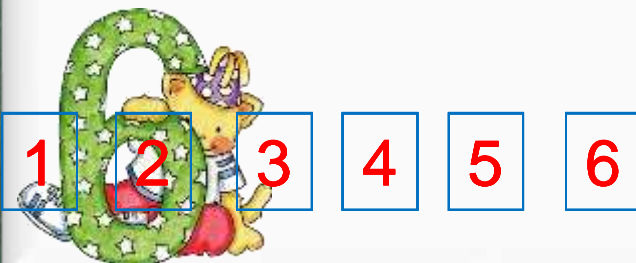


$$1 + 5 = 6$$

$$5 + 1 = 6$$

$$6 - 1 = 5$$

$$6 - 5 = 1$$



Физминутка



Счастливого пути!

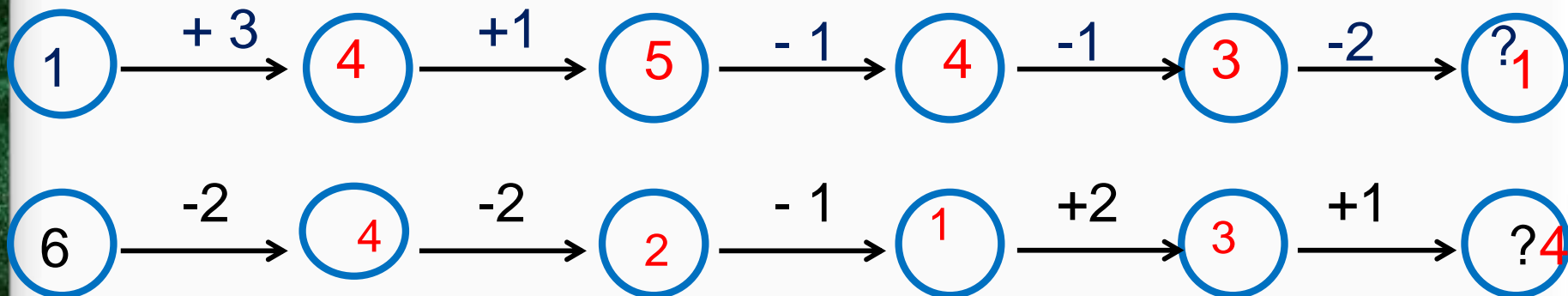


Открытка к пасху

Урок 36. Числа 1-6

Работа в группе

Назови числа, которые спрятались за знаком «?».





Спасибо, друзья!
Приходите в гости
снова. Я буду
ждать.



СПАСИБО!



